

HLAVOLÁMKY

4.

1. Vyřeš.

Dorota a Pavla mají dohromady sedm pětikorunových mincí. Dorota má o 15 korun více než Pavla. Kolik korun má Dorota?



PAVLA: _____

DOROTA: _____

2. Vyřeš.

Tři veverky Zrzka, Rozka a Zubejda nasbíraly dohromady 7 oříšků. Každá z nich nasbírala jiný počet oříšků, ale každá našla alespoň jeden. Zrzka nasbírala nejméně oříšků a Rozka nejvíce. Kolik oříšků našla Zubejda?

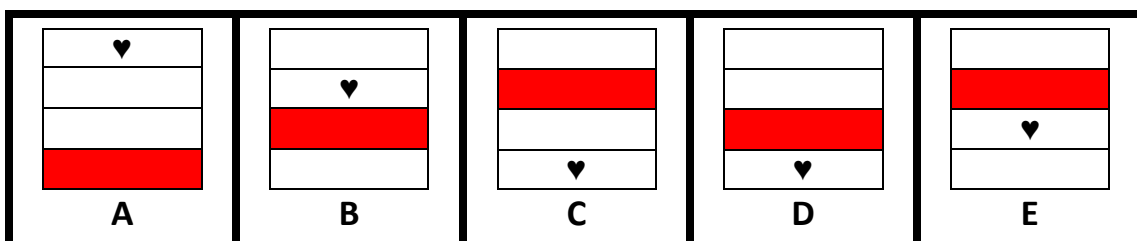
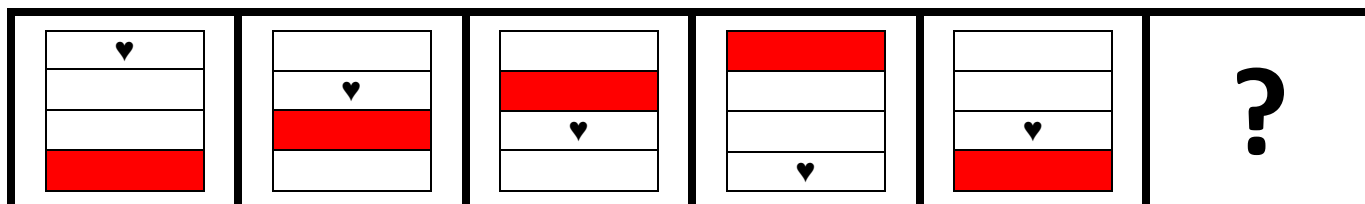


ZRZKA: _____


ROZKA: _____


ZUBEJDA: _____

3. Doplň, co patří místo otazníku.



4. Vylušti rébusy.

Rad  jsi tam?

Ve  am přijdeme.

Ma  říme půl hodiny.

5. Vyřeš hádanky.

Co vidíme i se
zavřenýma
očima?

Nohy nemá
a přece rychle
utíká. Co je to?

6. Pokus se vyřešit sčítací čtverce.

5			12		9		17
8		2	17			1	20
	4	9	14	5	2		17
14	15	14		19	19	16	

7. Vyřeš obrázkový příklad.

$$\begin{array}{l}
 \text{blue monster} + \text{blue monster} = 10 \\
 \text{orange monster} + \text{purple monster} = 12 \\
 \text{purple monster} + \text{purple monster} + \text{blue monster} = 11 \\
 \text{orange monster} + \text{purple monster} + \text{blue monster} =
 \end{array}$$

8. Vyřeš.

Jaký je nejmenší počet dětí
v rodině Kamila Nováka, jestliže
každé z dětí má alespoň jednoho
bratra a alespoň jednu sestru?